

ВСЕРОССИЙСКАЯ ОЛИМПИАДА ШКОЛЬНИКОВ
ПО ОБЖ 2020–2021 уч. г. ШКОЛЬНЫЙ ЭТАП
5–6 классы

А-7

Тестовые задания

Определите один правильный ответ
За правильный ответ начисляется 4 балла

- 1 Мигание красных наддверных огней поезда метро означает
 - 1) «посадка запрещена»
 - 2) «высадка запрещена»
 - 3) «посадка разрешена»
 - 4) «высадка разрешена»
- 2 Минимальная безопасная толщина льда при переходе через водоём одного человека должна составлять не менее
 - 1) 12 см
 - 2) 7 см
 - 3) 5 см
 - 4) 15 см
- 3 Если Вы встанете лицом к Полярной звезде, то справа будет направление на
 - 1) запад
 - 2) восток
 - 3) юг
 - 4) север
- 4 День пожарной охраны России отмечается
 - 1) 27 декабря
 - 2) 30 апреля
 - 3) 4 октября
 - 4) 1 марта
- 5 Дезинсекция представляет собой
 - 1) обезвреживание (нейтрализация, разбавление) или удаление опасных химических веществ с поверхностей
 - 2) удаление (снижение) радиоактивного загрязнения поверхностей
 - 3) удаление (снижение) бактериального загрязнения поверхностей
 - 4) удаление членистоногих с поверхностей
- 6 Верны ли утверждения?
Газопылезащитный респиратор предназначен для защиты органов дыхания от
 - А. радиоактивных аэрозолей
 - Б. микробиологических аэрозолей, передающихся воздушно-капельным путём при эпидемиях и пандемиях
 - 1) верно только А
 - 2) верно только Б
 - 3) верны оба суждения
 - 4) оба суждения неверны

- 7 Если Вы обнаружили бесхозный предмет в вагоне поезда метро, то необходимо незамедлительно связаться с
- 1) полицейским
 - 2) машинистом
 - 3) дежурным по станции
 - 4) сотрудником МЧС
- 8 Верны ли следующие суждения?
Школьник правильно сидит за рабочим столом, если
- А. он сидит глубоко на стуле, ровно держит корпус и голову, ступни опираются на пол, угол сгибания в коленных и голеностопных суставах составляет около 90°
- Б. расстояние от его глаз до поверхности стола равняется длине предплечья от локтя до конца пальцев
- 1) верно только А
 - 2) верно только Б
 - 3) верны оба суждения
 - 4) оба суждения неверны
- 9 Верны ли следующие суждения?
Кровоостанавливающий жгут наложен правильно, если ниже места наложения жгута
- А. пульс отсутствует
- Б. конечность бледная
- 1) верно только А
 - 2) верно только Б
 - 3) верны оба суждения
 - 4) оба суждения неверны
- 10 Верны ли следующие суждения?
Бинтовая повязка накладывается на конечности, как правило,
- А. слева направо (по отношению к бинтующему)
- Б. от периферии к центру
- 1) верно только А
 - 2) верно только Б
 - 3) верны оба суждения
 - 4) оба суждения неверны

Определите два правильных ответа

За каждый правильный ответ начисляется 4 балла

1. **Какой сигнальный цвет и какую геометрическую форму имеют знаки пожарной безопасности?**
 - 1) синий
 - 2) оранжевый
 - 3) квадрат
 - 4) красный
 - 5) круг

2. **Для тушения небольшого бытового возгорания можно воспользоваться**
 - 1) поваренной солью
 - 2) мукой
 - 3) плотной синтетической тканью
 - 4) стиральным порошком
 - 5) какао-порошком

3. **Какие растения являются ядовитыми?**
 - 1) актинидия острая
 - 2) белокопытник широкий
 - 3) анис
 - 4) борщевик
 - 5) вороний глаз

4. **К опасным геологическим явлениям и процессам относятся**
 - 1) сель
 - 2) обвал
 - 3) лавовый поток
 - 4) затор
 - 5) цунами

5. **По каким номерам в Российской Федерации возможно вызвать экстренные службы с сотового телефона?**
 - 1) 911
 - 2) 112
 - 3) 985
 - 4) 413
 - 5) 113

6. **К средствам индивидуальной защиты органов дыхания относятся**
 - 1) камера защитная детская
 - 2) щиток защитный лицевой
 - 3) респиратор
 - 4) скафандр
 - 5) гидроизолирующий костюм

- 7 **День солидарности в борьбе с терроризмом стал памятной датой после событий, произошедших в школе № 1 города Беслана**
- 1) 1–3 сентября
 - 2) 2004 года
 - 3) 23–26 октября
 - 4) 14–19 июня
 - 5) 1995 года
- 8 **Какие действия запрещены при оказании первой помощи пострадавшему с термическим ожогом при наличии целых и вскрывшихся пузырей?**
- 1) вскрывать пузыри
 - 2) накладывать нетугую повязку
 - 3) смазывать ожоговую рану маслами, жирами
 - 4) прикладывать поверх повязки холод
 - 5) поить пострадавшего
- 9 **Какие признаки характерны для ушиба конечности?**
- 1) отёк
 - 2) деформация
 - 3) кровоизлияние
 - 4) кровотечение наружное
 - 5) костный хруст
- 10 **Как правильно проверить наличие сознания у пострадавшего?**
- 1) слегка похлопать по щекам
 - 2) обратиться с вопросом, например «что с Вами?»
 - 3) аккуратно потрясти за плечи
 - 4) надавить на точку, находящуюся между носом и верхней губой
 - 5) растереть мочки ушей

Максимум за тестовые задания – 120 баллов.

Теоретические задания

Задание 1






Установите соответствие между изображением дорожного знака и его наименованием.



«Опасный поворот»
«Выброс гравия»
«Скользкая дорога»
«Опасные повороты»
«Пересечение с велосипедной дорожкой»
«Прочие опасности»
«Жилая зона»
«Начало населённого пункта»
«Пешеходная дорожка»
«Пешеходный переход»






Задание 2

Каждый визуальный сигнал «поверхность – воздух», применяемый при поисково-спасательных операциях, имеет определённое значение. Установите соответствие между изображением сигнала и его значением.

	«Нет, или отрицательно»
	«Ничего не обнаружено, продолжаем поиски»
	«Неспособны двигаться, требуется медицинская помощь»
	«Двигаемся в этом направлении»
	«Получены сведения, что воздушное судно находится в этом направлении»
	«Требуется помощь»
	«Требуется оружие и боеприпасы»

Задание 3

Установите соответствие между изображением топографического знака и его наименованием.

	Редколесье
	Овраг
	Кустарники
	Луг
	Озеро. Проходимое болото

Задание 4



При оказании первой помощи можно использовать аптечку первой помощи (автомобильную).

Вариант 1. Укажите какие средства или медицинские изделия входят в аптечку первой помощи (автомобильную).

Вариант 2. Укажите какие средства или медицинские изделия НЕ входят в аптечку первой помощи (автомобильную).

Средства или медицинские изделия	
1	 Бриллиантовый зелёный, 1%-ный спиртовой раствор ✓
2	 Анальгин, таблетки
3	 Перчатки медицинские нестерильные смотровые ✓
4	 Лейкопластырь рулонный
5	 Устройство для проведения искусственного дыхания «Рот–устройство–рот»
6	 Шина складная
7	 Бинт марлевый медицинский стерильный 7 м x 14 см ✓

Всероссийская олимпиада школьников по ОБЖ. 2020–2021 уч. г.
Школьный этап. 5–6 классы

8	 The image shows a rectangular box of 'КОЛЛАГЕНОВАЯ' (collagen) hemostatic sponge. The box is white with black and red text. Below the box, a single white, porous sponge is shown.	Губка гемостатическая коллагеновая
9	 The image shows a black, elastic, fabric tourniquet with a white buckle and a strap.	Жгут кровоостанавливающий
10	 The image shows a white box and a small glass bottle of iodine solution. The bottle has a black cap and a white label with the word 'ИОД' (Iodine). A glass dropper is also visible next to the bottle.	Йод, 5%-ный спиртовой раствор

Максимальная оценка за работу – 200 баллов.